

绝密★启用前

郑州职业技术学院 2017 年单独招生 《职业技能》试卷 zA

说 明

本试卷共有三个部分，75 道题，总分 300 分，总时限为 90 分钟。

请在试卷、答题纸相应位置，严格按照要求填写好自己的姓名、考场、考号和座位号。

请仔细阅读以下注意事项：

1. 题目应在答题纸上作答，在试卷上作答一律无效。
2. 监考人员宣布考试开始时，考生方可答题。
3. 监考老师宣布考试结束时，考生应立即停止作答，将试卷、答题纸反扣在桌面上，待监考老师确认数量无误后，方可离开。
4. 提醒考生注意，在答题纸上填写答案时一定要对准题号。

第一部分 基础知识

请根据题目要求，在四个选项中选择一个正确答案。本部分共有 25 道题（1~ 25 题），每题 4 分，共 100 分。

1. 清朝晚期，被今人誉为“开眼看世界第一人”的是谁？（ ）
A. 林则徐 B. 龚自珍 C. 魏源 D. 严复
2. “身无彩凤双飞翼，心有灵犀一点通”是哪一位诗人的诗句？（ ）
A. 李白 B. 杜牧 C. 李商隐 D. 王维
3. 下列哪个国家不是联合国常任理事国之一？（ ）
A. 中国 B. 法国 C. 英国 D. 德国
4. 瑞典斯德哥尔摩国际和平研究所发表的报告显示，2012 年至 2016 年间全球军火贸易达到冷战结束以来最高水平，其中全球最大的军火出口国和进口国分别是（ ）
A. 美国和中国 B. 俄罗斯和中国 C. 美国和印度 D. 俄罗斯和印度
5. 以下个人取得的各项收入中，免纳个人所得税的是（ ）
A. 残疾、孤老人员和烈属的所得 B. 彩票中奖所得
C. 保险赔款 D. 房屋出租所得
6. “才者，德之资也；德者，才之帅也。”下列对这句话理解正确的是（ ）
A. 有德就有才
B. 有才就有德
C. 才是才，德是德，二者没有什么关系
D. 才与德关系密切，在二者关系中，德占主导地位
7. 下列关于唐宋八大家的说法，不正确的是（ ）
A. 唐宋八大家是唐宋时期主持古文运动的中心人物，他们提倡散文，反对骈文
B. 韩愈和柳宗元政见不同，但并未影响他们共同携手倡导古文运动，强调文章内容的重要性
C. 唐宋八大家包括苏洵、苏轼、苏辙、韩愈、柳宗元、欧阳修、杜甫和王安石
D. 柳宗元写了不少寓言故事，如《黔之驴》、《永某氏之鼠》等，“黔驴技穷”是尽人皆知的成语

8. 获得 2016 年国家最高科学技术奖的科学家是赵忠贤和 ()
 A. 吴良镛 B. 张立同 C. 屠呦呦 D. 程开甲
9. 我国历史上曾有一些人因参与处理中央政权与少数民族政权的关系而闻名, 下列对应**不正确**的是 ()
 A. 于谦——鲜卑 B. 岳飞——女真
 C. 文天祥——蒙古 D. 霍去病——匈奴
10. 关于日常生活用品, 下列说法正确的是 ()
 A. 添加了高级脂肪酸的肥皂, 质量更好一些
 B. 牙膏的成分中包括摩擦剂
 C. 加碘盐应注意防潮, 保存在有阳光照射、干燥通风的地方
 D. “生抽”是酿造酱油, 而“老抽”是配制酱油
11. 下面所列我国古代科学著作中, 哪部是世界上最早的天文学著作? ()
 A. 《甘石星经》 B. 《齐民要术》
 C. 《内经》 D. 《农政全书》
12. 建设资源节约型、环境友好型社会, 说到底是谁的问题。()
 A. 促进生产关系与生产力, 上层建筑与经济基础相协调
 B. 协调人和自然的关系
 C. 防治污染, 建设良好生态
 D. 减少二氧化碳排放, 取消交易和消费
13. 我国向亚丁湾海域派出海军护航舰艇编队, 途中经过的海峡是 ()
 A. 英吉利海峡 B. 直布罗陀海峡
 C. 马六甲海峡 D. 麦哲伦海峡
14. 中国第一个农村革命根据地是 ()
 A. 湘鄂西革命根据地 B. 井冈山革命根据地
 C. 海陆丰革命根据地 D. 陕北革命根据地
15. 下列成语与历史人物对应**错误**的一组是 ()
 A. 指鹿为马——赵高 B. 怒发冲冠——蔺相如
 C. 阳春白雪——李斯 D. 入木三分——王羲之
16. 下列说法正确的是 ()
 A. “然我一沐三捉发, 一饭三吐哺, 起以待士, 犹恐失天下之贤人”是齐桓公的名言

- B. “嘈嘈切切错杂弹, 大珠小珠落玉盘”形容的是古筝的声音
 C. “却看妻子愁何在”“结发为妻子”中的“妻子”是一个意思
 D. “写鬼写妖高人一等, 刺贪刺虐入木三分”是对《聊斋志异》的评价
17. “促春遘时雨, 始雷发东隅, 众蛰各潜骇, 草木纵横舒。”这首诗描述的是二十四节气中的 ()
 A. 谷雨 B. 清明 C. 惊蛰 D. 春分
18. 人们常说:“无事不登三宝殿”, 其中“三宝”是指哪三宝? ()
 A. 纸、砚、笔 B. 书、剑、琴
 C. 佛、法、僧 D. 金、银、玉
19. 我国民间有种说法叫做“水缸穿裙子, 天就要下雨”。水缸“穿裙子”是指: 在盛水的水缸外表面, 水面所在的位置往下, 出现了一层均匀分布的小水珠。关于出现小水珠的原因, 下列说法中, 正确的是 ()
 A. 是水的蒸发现象 B. 是水蒸气的液化现象
 C. 是水分子的扩散现象 D. 水缸有裂缝, 水渗了出来
20. 奠定了三国鼎立局面的战争是 ()
 A. 祖逖北伐 B. 官渡之战 C. 赤壁之战 D. 八王之乱
21. 关于职业道德, 正确的说法是 ()
 A. 职业道德有助于增强企业凝聚力, 但无助于促进企业技术进步
 B. 职业道德有助于提高劳动生产率, 但无助于降低生产成本
 C. 职业道德有利于提高员工职业技能, 增强企业竞争力
 D. 职业道德只是有助于提高产品质量, 但无助于提高企业信誉和形象
22. 中国人自称为“炎黄子孙”, 其中“黄”是指 ()
 A. 黄河 B. 黄土 C. 黄帝 D. 黄皮肤
23. 我国的能源条件可以概括为 ()
 A. 缺煤、富油、少气 B. 富煤、缺油、少气
 C. 缺煤、缺油、多气 D. 富煤、富油、多气
24. “性善、性恶”是我国古代哲学的一对对立的观念, 讨论的是人的本性天生是善良的还是恶的。下列话语属于“性恶论”的是 ()
 A. 人之性善也, 犹水之就下也。人无有不善, 水无有不下
 B. 若夫目好色, 耳好声, 口好味, 心好利, 骨体肤理好愉佚, 是皆生于人之情性者也

- C. 恻隐之心，人皆有之；羞恶之心，人皆有之；恭敬之心，人皆有之；是非之心，人皆有之
- D. 仁义忠信，乐此不倦，此天爵也
25. 在太空中，宇航员观察星星时发现()
- A. 星光闪烁
- B. 星星非常清晰
- C. 有时闪烁，有时清晰
- D. 当太空舱位于地球和太阳之间时，星光闪烁

第二部分 能力素养

请根据题目要求，在四个选项中选择一正确答案。本部分共有 25 道题(26~50 题)，每题 4 分，共 100 分。

26. 近年来，中国水电响应国家“走出去”发展战略，利用多年开发水电形成的技术、产能_____，以及中国金融机构的资金配套实力，积极参与全球范围的水电开发，赢得了众多水电开发国家的信赖和_____。

依次填入划横线部分最恰当的一项是()

- A. 优点 赞同 B. 优势 认可
- C. 亮点 承认 D. 长处 认同
27. 尽管电脑、手机等的使用是造成“提笔忘字”的重要原因，但论坛上一些专家认为，“汉字失写症”的出现，不能完全_____于现代信息技术的应用，还有人们对汉字文化认知的_____。他们觉得诗歌是文化，而汉字只是文化的载体，本身并非文化。

依次填入划横线部分最恰当的一项是()

- A. 归咎 缺失 B. 归因 缺憾
- C. 归罪 减少 D. 归附 缺乏
28. 那时在我们家里，主人和客人均彬彬有礼，但常因观点相异而激烈争论，_____，互不相让。不但洋溢着自由争论的热烈气氛，也体现出“_____”的传统精神。

依次填入划横线处最恰当的一项是()

- A. 各抒己见 君子和而不同 B. 各执一词 君子喻于义
- C. 各抒己见 君子成人之美 D. 各抒己见 君子之交淡如水

29. 前一段时间出现的一些道德滑坡、道德冷漠现象，一个重要原因就在于，一些见义勇为者的权益得不到保障，让人们产生“做好事有_____”之感。也因此，只有实施“国家买单”制度，才能更好地_____社会风气，使道德_____进入良性循环。

填入划横线部分最恰当的一项是()

- A. 难度 改造 氛围 B. 风险 扭转 风尚
- C. 麻烦 营造 潮流 D. 危险 构建 风气
30. 在人际交往中，有一种互补理论：两个人在人生观和价值观方面比较_____，而在才能和兴趣方面有所不同，这样既会彼此欣赏，又能_____，相处也比较舒服，做起事来也会比较和谐。

依次填入划横线部分最恰当的一项是()

- A. 相似 集思广益 B. 认同 求同存异
- C. 相近 殊途同归 D. 趋同 取长补短
31. 娃娃鱼不善于追捕，只是隐蔽在滩口的乱石间，发现猎物经过时，进行突然袭击。它的牙齿又尖又密。猎物进入口内后很难逃掉。它的牙齿不能咀嚼，只是张口将猎物囫囵吞下，然后在胃中慢慢消化。娃娃鱼有很强的耐饥本领，甚至两三年不进食也不会饿死。它同时也能暴食，饱餐一顿可增加体重的五分之一。食物缺乏时，还会出现同类相残的现象，甚至以卵充饥。娃娃鱼喜食鱼、蟹、虾、蛇等动物。

这段文字介绍了娃娃鱼的()

- A. 性情特点 B. 生活特性 C. 捕食习惯 D. 消化功能
32. 安定的住房，是尊严的前提，幸福的第一步。城市如果要让生活更美好，就要从让每个人都住有所居开始。但住房问题又是城市最大的挑战，“房荒是城市特有的问题”。恩格斯 1872 年的名著《论住宅问题》就提出住房问题的根源是城乡发展不平衡的问题。城市化和工业化带来人口在城市的高度集中，带来城市土地资源的稀缺，从而产生住房需求和供给之间的巨大反差。住房短缺是一种典型的“城市病”。

这段文字意在说明()

- A. 住有所居是尊严的前提，幸福的基础
- B. 住房问题的产生和解决与城市发展密切相关
- C. 资源的集聚效应和稀缺效应是相伴而生的

D. 住房短缺是伴随城市发展而产生的“城市病”

33. 对于如何消解这种“吃不起茶叶蛋的误解”，最好的办法无疑还是多交流，这种交流不仅是信息的交流，也是价值观和生活方式的交流。曾几何时，大陆民众还认为世界三分之二的人民都生活在水深火热之中，吃不饱、穿不暖。这伴随着三十多年的对外开放与交流已经得到了很多的消解，但是这种不同国家、地区的误读是普遍存在的，就像有多少大陆人还在意淫韩国人吃不起牛肉呢。

文中加点的“这”是指（ ）

- A. 吃不起茶叶蛋
 - B. 大陆民众认为世界三分之二的人民都生活在水深火热之中，吃不饱、穿不暖
 - C. 不同国家、地区的误读
 - D. 大陆人认为韩国人吃不起牛肉
34. 常听母亲说当年和父亲结婚时，没有钻戒、酒席，用发喜糖的方式就宣布结婚了，但她十分乐于回忆当年的每一个细节。朴实的婚礼让他们很幸福，我认为奢侈的婚礼并不等于幸福的婚姻。

通过这段文字，作者想要表达的主要观点是（ ）

- A. 现在的婚礼比父母辈的婚礼更豪华
 - B. 朴实的婚礼也会让人感到幸福
 - C. 婚姻的幸福与婚礼的豪华无关
 - D. 幸福的婚姻是执子之手，与子偕老
35. ①“草根”文艺在中国源远流长，只是一直游离于正统文艺、主流文化之外，一直未受到特别的关注，长期被忽视，甚至被贬抑。
- ②而芸芸大众则更多地为谋生奔波，庸常的世俗生活与超然、灵动、奇瑰的文艺化境显得颇有距离。
- ③实际上文艺从来都不是与大众和市井无缘，文艺从来都不仅仅局限于职业创作者和知识精英的小圈子。
- ④长期以来，文学艺术创作似乎是作家艺术家的专长。
- ⑤相反，在各行各业都不乏文艺的执著爱好者，一直兴盛着一种与职业文艺、“精英”文艺大为不同的“草根”文艺。
- ⑥然而，这种现象在近些年发生了巨大变化。

将以上6个句子重新排列，语序正确的一项是（ ）

- A. ④②⑥③⑤①
- B. ④②③⑥①⑤
- C. ④②⑥③①⑤
- D. ③⑤①④②⑥

36. “路怒症”是指汽车或其他机动车驾驶员愤怒和具有攻击性的行为。“路怒症”的症状包括：开车时情绪不稳定、做不文明手势、骂脏话、过度按喇叭或用大灯闪、突然加速或急刹车、突然变更车道或并线、故意不让其他车辆并线、被“别”之后一定要还回去、开车时向其他车扔东西、停车准备打人等。

根据上述定义，以下属于路怒症的是（ ）

- A. 小李骑自行车上学的时候，一个行人突然走到路中间挡住了他的去路，他一时生气便对那人骂了脏话
 - B. 张先生平时公务繁忙，即使开车的时候也会一直打电话
 - C. 老王每次在夜间开车的时候都尽量开近光灯
 - D. 一到放学时间校门前都会堵车，吴女士每次开车接孩子都会不停地按喇叭
37. 比马龙效应是指评价主体低估被评价者能力，认定被评价者是不求上进的、行为差劲的，以致被评价者将这种观念内化，促使被评价者表现不良行为。

根据上述定义，下列属于比马龙效应的是（ ）

- A. 小王如愿进入了公务员面试环节，但在候考时因见别的考生侃侃而谈而产生了不自信心理，导致在面试时过度紧张，表现失常
 - B. 在一次模考中，老师说这次考题难度和高考相符，本认为学生会因此而高度紧张，结果学生像对待往常考试一样沉着
 - C. 一教授故意将一道数学题说成是至今仍未得到解决的世界级难题，结果学生都对自己的正确答案持怀疑态度
 - D. 在职称考试中，一领导认为小花能力达不到二级考评的评价无意间被小花听到，结果小花心灰意冷，面试中因消极对待而失败
38. 耦合效应也称为互动效应，是指群体中两个或以上的个体通过相互作用而彼此影响从而联合起来产生增力的现象。

根据上述定义，下列不属于耦合效应的是（ ）

- A. 鹬蚌相争，渔人得利
- B. 水涨船高，柴多火旺

姓名：_____

考号：_____

考场：_____

- C. 众人合心，其利断金
- D. 三个臭皮匠顶个诸葛亮

39. 北漂，也称北漂一族，是特指为实现自己的理想，专门从其他地方来到北京谋生，在北京已经有职业或者正在寻找职业，却没有北京户口，很少有固定住所，总是搬来搬去，给人飘忽不定感觉的人群。

下列属于北漂一族的是（ ）

- A. 甲，山西人，在北京某区一个中学工作，在单位附近租房，单位给办理了北京户口
- B. 乙，河南人，非北京高校的研究生，来北京旅游
- C. 丙，河北人，大学毕业后在北京某公司工作，年薪十万且提供住宿，未在北京落户
- D. 丁，英国人，因工作需要，来北京出差两天，无固定住所

下面两道题先给出一组相关的词，要求你在备选答案中找出一组与之在逻辑关系上最为贴近、相似或匹配的词。

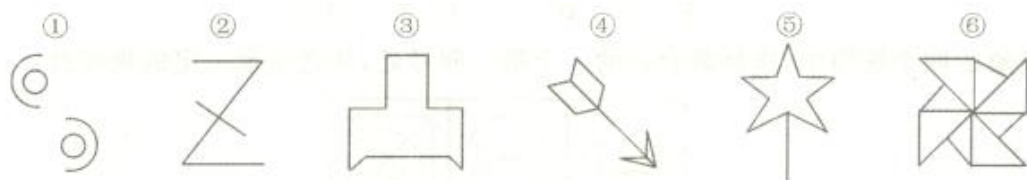
40. 经济：落后：发展（ ）

- A. 熊猫：稀少：保护
- B. 土地：贫瘠：灌溉
- C. 空气：雾霾：治理
- D. 卫星：发射：通信

41. 批评：表扬：评价（ ）

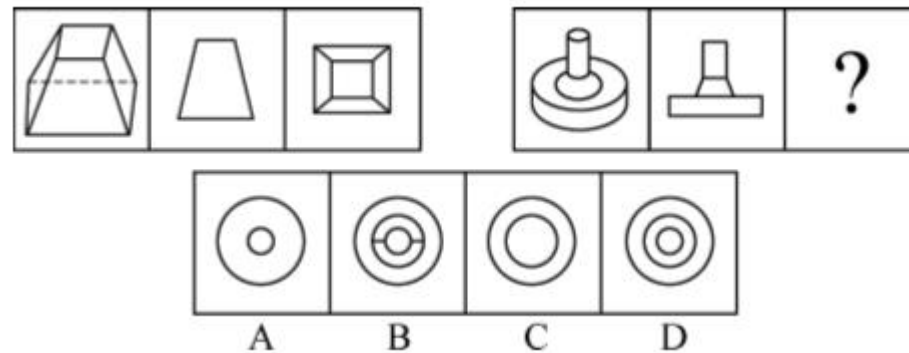
- A. 诋毁：举报：投诉
- B. 攻击：保卫：反击
- C. 嫉妒：谦虚：表现
- D. 辩解：沉默：回应

42. 把下面的六个图形分为两类，使每一类图形都有各自的共同特征或规律，分类正确的一项是（ ）



- A. ①②③，④⑤⑥
- B. ①②④，③⑤⑥
- C. ①②⑤，③④⑥
- D. ①②⑥，③④⑤

43. 从所给的四个选项中，选择最合适的一个填入问号处，使之呈现一定的规律性（ ）



44. 宏远公司组织员工到外地集训，先乘汽车，每个人都有座位，需要 60 座汽车 4 辆，而后乘船，需要定员为 100 人的船 3 条。到达培训基地后分组进行学习，分的组数与每组的人数恰好相等。这个单位外出集训的有多少人？（ ）

- A. 240
- B. 225
- C. 201
- D. 196 人

45. 把一袋糖分给小朋友们，每人分 10 粒，正好分完；如果每人分 15 粒，刚好有 4 个小朋友分不到糖。那么共有（ ）个小朋友

- A. 8
- B. 10
- C. 12
- D. 14

46. 一项新的调查显示，那些吃饭合口味的男女朋友发展成为夫妻的可能，比起那些吃饭口味不合的男女朋友要高得多。因此，要想结为夫妻，男女朋友之间就需要尽量保持相同的吃饭口味。

以下哪项如果为真，最能削弱上述题干的结论？（ ）

- A. 男女朋友不能结为夫妻的一个重要原因可能是双方口味不一致
- B. 男女朋友最后结为夫妻并不一定是吃饭的口味相同
- C. 吃饭口味不同的人往往性格存在很大差异
- D. 吃饭口味与男女朋友发展成为夫妻关系有直接联系

47. 传统观点认为，尽管用于制造贫铀弹所使用的贫铀放射性低，仍会导致人类染色体受损，从而引发肿瘤或癌症。但是，在最近的一项研究中，研究人员对接触过贫铀弹的退伍老兵的血细胞进行研究，到目前为止，还没有检测到任何染色体断裂和重复，并没有发现任何由于接触贫铀弹而造成的负面健康影响。因此相关研究人员认为，放射性低的贫铀弹不会对人类的健康造成影响。

以下哪项如果为真，最能削弱研究人员的结论? ()

- A. 某地居民向法院起诉，声称该国军队试验贫铀弹，已影响该地居民健康
- B. 世界上很多国家的专家都在致力于解决贫铀弹的放射性问题
- C. 有数据显示，这些退伍老兵的后代患有先天性缺陷的比率高于正常值
- D. 没有接触过贫铀弹的人也会患有肿瘤或癌症

48. 某综合性大学只有理科和文科，理科学生多于文科学生，女生多于男生。

如果上述论述为真，则以下哪项推断也一定为真? ()

- A. 理科的女生多于文科的男生
- B. 理科的男生多于文科的男生
- C. 文科的女生多于文科的男生
- D. 以上都不一定为真

49. 我想说的都是真话，但真话我未必都说。

如果上述论述为真，则以下各项都可能为真，除了 ()

- A. 我有时也说假话
 - B. 我不是想啥说啥
 - C. 我说的都是我想说的
 - D. 有时说某些善意的假话并不违背我的意愿
50. 本世纪年以来，我国内蒙古地区经常出现沙尘暴，造成重大经济损失。有人认为，沙尘暴是由于气候干旱造成草原退化、沙化而引起的，是天灾，因此是不可避免的。

以下各项如果为真，都能对上述观点提出质疑，除了 ()

- A. 上世纪 50 年代，内蒙古锡林格勒草原的草有马肚子那样高，现在的草连老鼠都盖不住了
- B. 在内蒙古呼伦贝尔和锡林格勒退化草原的对面，蒙古国草原的草高达 1 米左右
- C. 在几乎无人居住的中蒙 10 公里宽的边界线上，草依然保持上世纪 50 年代的高度
- D. 沙尘暴增多主要是超载放牧、对草原掠夺性经营等人为因素造成的

第三部分 综合认知

请根据下列资料所提供的信息进行分析、比较、计算和判断，回答 51-75 题，每题 4 分，共 100 分。

根据下列资料，回答 51~55 题。

2013 年全年完成邮电业务总量 16679 亿元，比上年增长 11.1%。其中，邮政业务总量 2725 亿元，增长 33.8%；电信业务总量 13954 亿元，增长 7.5%。邮政业全年完成邮政函件业务 63.20 亿件，包裹业务 0.69 亿件，快递业务量 91.9 亿件；快递业务收入 1442 亿元。电信业全年局用交换机容量减少 2697 万门，总容量 41052 万门；新增移动电话交换机容量 12522 万户，达到 196545 万户。年末固定电话用户 26699 万户。新增移动电话用户 11695 万户，年末达到 122911 万户，其中 3G 移动电话用户 40161 万户。电话普及率达到 110.5 部/百人。互联网上网人数 6.18 亿人，其中手机上网人数 5.0 亿人。互联网普及率达到 45.8%。



- 51. 2013 年电信业务总量约比 2012 年增加了 () 亿元。
A. 688.4 B. 735.6 C. 865.3 D. 973.5
- 52. 2013 年快递业务的平均收入为 () 元/件。
A. 18.2 B. 16.3 C. 15.7 D. 14.4
- 53. 2012 年移动电话交换机容量为 () 万户。
A. 209067 B. 196545 C. 184023 D. 178442
- 54. 2010~2013 年移动电话年末用户数增长速度最快的是 () 年。
A. 2010 B. 2011 C. 2012 D. 2013
- 55. 下列说法正确的一项是 ()
A. 2013 年手机上网人数占互联网上网人数的比重达 90%以上
B. 2009~2013 年固定电话年末用户数量依次减少，而移动电话年末用户数量依次增长
C. 2013 年邮政函件业务超过包裹业务的一百倍

姓名：_____

考号：_____

考场：_____

D. 2009~2013 年移动电话年末用户数平均每年增长 9638 万户

根据下面的资料表回答第 56~60 题。

在人口统计中，人口出生率和死亡率的差即是人口自然增长率。七十年代以前中国的人口出生率一直保持在较高水平。例如，1965 年中国的人口出生率为 37.9%。七十年代以后我国的人口出生率呈下降趋势。当然，有些年份的出生率也有起伏波动。例如：从 1978 年到 1984 年，中国人口出生率各年依次为 18.3%、17.8%、18.2%、20.9%、21.1%、18.6%、17.5%。各年的人口死亡率的变化则较小，例如：从 1978 年到 1984 年，中国人口死亡率各年依次为 6.3%、6.2%、6.3%、6.4%、6.6%、7.1%、6.7%。

- 56. 与上一年相比，1981 年中国人口出生率增加了几个千分点？（ ）
A. 0.4 B. 0.2 C. 2.5 D. 2.7
- 57. 从 1980 年到 1984 年，中国人口死亡率的平均值是多少？（ ）
A. 6.2% B. 6.4% C. 6.6% D. 6.8%
- 58. 从哪一年开始，中国人口自然增长率在下降之后又开始回升？（ ）
A. 1979 B. 1980 C. 1981 D. 1982
- 59. 1983 和 1984 两年，中国人口自然增长率的平均值大约是多少？（ ）
A. 11.5% B. 11.4% C. 11.2% D. 9%
- 60. 以下年份与上一年相比，哪一年的人口自然增长率没有变化？（ ）
A. 1980 B. 1981 C. 1982 D. 1983

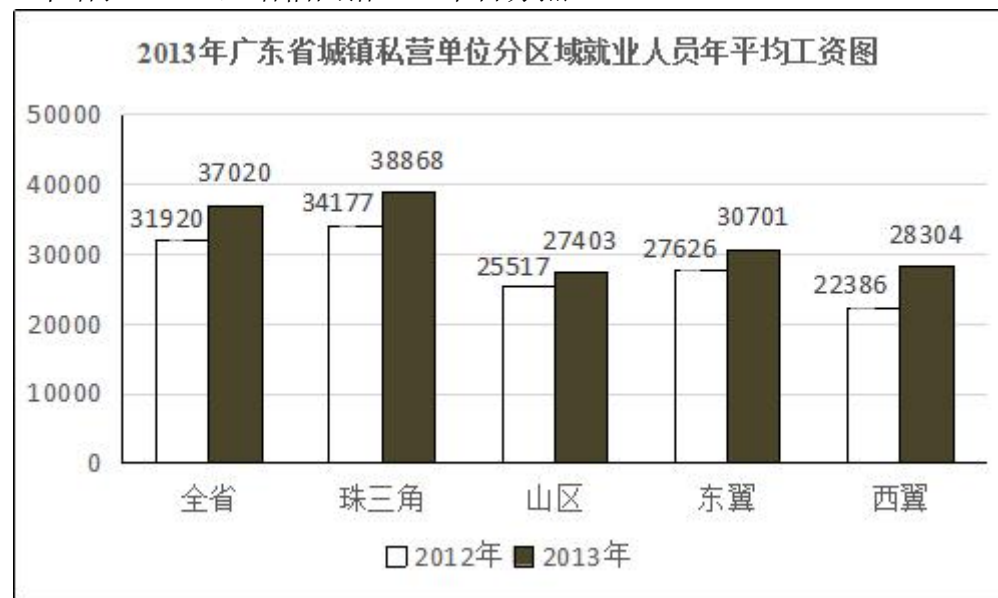
根据下面的统计表回答第 61~65 题

年份	能源消费总量 (折标准燃料: 万吨)	占能源消费总量的 %			
		煤炭	石油	天然气	水电
1980	60275	72.10	20.85	3.06	3.99
1981	24947	72.75	20.00	2.74	4.51
1982	62646	74.02	18.58	2.48	4.92
1983	66040	74.27	18.07	2.40	5.26
1984	70904	75.31	17.45	2.33	4.91
1985	77020	75.92	17.02	2.23	4.83

- 61. 哪一年能源消费总量最少？（ ）
A. 1980 B. 1981 C. 1982 D. 1983
- 62. 1983 年消耗的天然气为多少万吨(折标准燃料)?（ ）
A. 1584.96 B. 1538.80 C. 1547.12 D. 1545.03
- 63. 1985 年能源消耗总量比 1981 年高多少万吨(折标准燃料)?（ ）
A. 16745 B. 52073 C. 49125 D. 6116
- 64. 能源消费构成中，从 1980 年到 1985 年占比变化最大的是（ ）
A. 煤炭 B. 石油 C. 水电 D. 天然气
- 65. 主能源消费构成中，比例一直处于上升趋势的是（ ）
A. 煤炭 B. 石油 C. 水电 D. 天然气

根据下列资料回答 66~70 题。

据统计，2013 年广东省城镇私营单位就业人员每年平均工资为 37020 元，比上年增长 16.0%，增幅回落 3.9 个百分点。



- 66. 2013 年，广东省城镇私营单位就业人员平均工资比 2012 年增加了（ ）元。
A. 5100 B. 5200 C. 5300 D. 5400
- 67. 2013 年，城镇私营单位就业人员平均工资与 2012 年相比，增长最慢的地区为（ ）
A. 珠三角 B. 山区 C. 东翼 D. 西翼
- 68. 2012 年广东省城镇私营单位就业人员平均工资水平最高区域约为最低区

域的几倍 ()

- A. 1.2 B. 1.8 C. 1.5 D. 2.0

69. 2011 年, 广东省城镇私营单位就业人员平均工资约为 () 元。

- A. 25891 B. 26617 C. 28983 D. 31920

70. 2014 年, 如果按照 2013 年的增长速度不变, 下列区域的城镇私营企业人员平均工资从高到低排列正确的是 ()

- A. 珠三角>东翼>山区>西翼 B. 珠三角>山区>东翼>西翼
C. 珠三角>东翼>西翼>山区 D. 珠三角>西翼>东翼>山区

根据以下资料回答第 70~75 题的问题。

2012 年, 浙江省服务业增加值为 1.56 万亿元, 比上年增长 9.3%, 高于 GDP 增速 1.3 个百分点, 高于第二产业增速 2 个百分点, 对浙江省经济增长的贡献率为 51.1%, 较上年同期提高 5.3 个百分点。

2012 年, 浙江省服务业从业人员数 1290 万人, 占浙江省就业人数的 35%, 人均创造增加值 12.11 万元, 比上年提高 0.95 万元。2012 年, 浙江省服务业税收收入为 4089 亿元, 比上年增长 24.1%, 服务业税收收入占全部税收收入的比重为 53.4%, 比上年提高 5.3 个百分点。

2012 年, 服务业内部各行业都保持平稳增长, 其中住宿和餐饮业增加值为 722.81 亿元, 同比增长 11.9%, 增速位居各行业首位; 批发和零售业增加值为 3696.8 亿元, 总量处于各行业首位, 同比增长 10.3%; 金融业增加值为 2965.54 亿元, 同比增长 9.7%, 增速位居第三。

2012 年, 杭州、宁波、温州三市的服务业增加值规模居前三位, 分别为 3921.17 亿元、2738 亿元、1694.1 亿元; 宁波、金华、绍兴三市的服务业增加值增速居前三位, 分别为 10.9%、10.9%、10.8%; 服务业增加值占 GDP 的比重居前三位的为杭州、温州和金华, 分别为 50.2%、46.4%、45.2%, 其中杭州占比首次过半。

2012 年, 浙江省服务贸易累计进出口额 270.38 亿美元, 其中出口 173.49 亿美元, 同比增速分别为 13.2% 和 18.9%, 分别高于同期货物贸易增幅 12.2 和 15.1 个百分点。

71. 2012 年, 浙江省服务业人均创造增加值同比增长 ()

- A. 7.1% B. 7.8% C. 8.5% D. 9.2%

72. 2011 年浙江省批发和零售业增加值是住宿和餐饮业的多少倍? ()

- A. 4.9 B. 5.2 C. 5.5 D. 5.8

73. 2012 年杭州 GDP 总量比温州多 () 亿元。

- A. 2227.07 B. 3651.08 C. 4160.02 D. 4454.14

74. 2012 年浙江省服务贸易进出口实现 ()

- A. 顺差 76.6 亿美元 B. 顺差 67.7 亿美元
C. 逆差 76.6 亿美元 D. 逆差 67.7 亿美元

75. 根据所给资料, 下列说法**不正确**的是 ()

- A. 2011 年浙江省服务业增加值对全省经济增长的贡献率为 45.8%
B. 2012 年浙江省服务业从业人员数同比增速低于 9.3%
C. 2012 年浙江省全部税收收入同比增速低于 24.1%
D. 2012 年杭州服务业增加值规模、增速、占 GDP 的比重均在前三位

※※※ 全部测试到此结束! ※※※